



G CONSELLERIA
O EDUCACIÓ, UNIVERSITAT
I I RECERCA
B DIRECCIÓ GENERAL
/ FORMACIÓ PROFESSIONAL
I ENSENYAMENTS
ARTÍSTICS SUPERIORS

PROVA D'ACCÉS A GRAU MITJÀ

Convocatòria de 2020

VERSIÓ CATALANA_NOA

INSTRUCCIONS DE LA PROVA

- Disposau d'**1 hora** per fer la prova.
- L'examen s'ha de presentar escrit **amb tinta blava o negra**, no a llapis.
- **No** es poden usar **telèfons mòbils** ni **aparells electrònics**.
- **No** es pot entrar a l'examen amb **textos o documents escrits**.
- Les errades **ortogràfiques** penalitzen **fins a 2 punts**.

DADES PERSONALS DE L'ALUMNE/A

Nom: _____

Llinatges: _____

DNI / NIE:

--	--	--	--	--	--	--	--	--

Qualificació:

--

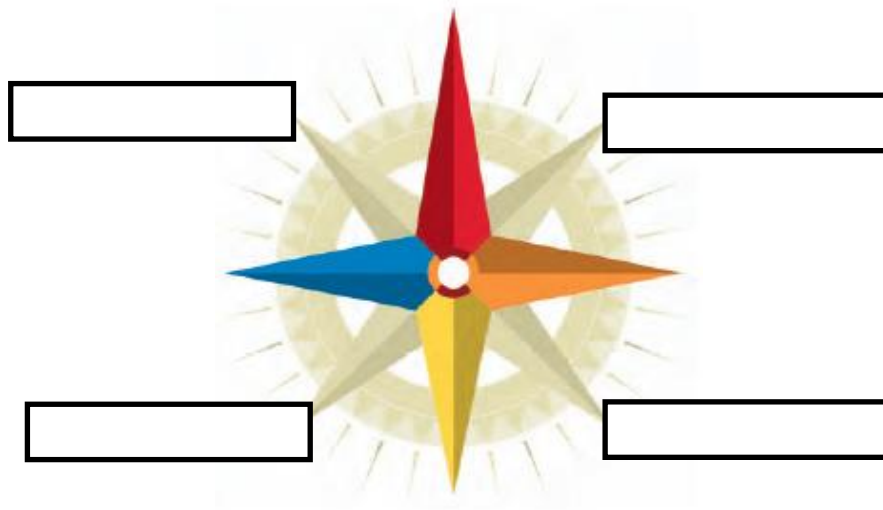
Signatura de l'alumne/a:

--

Bona sort!

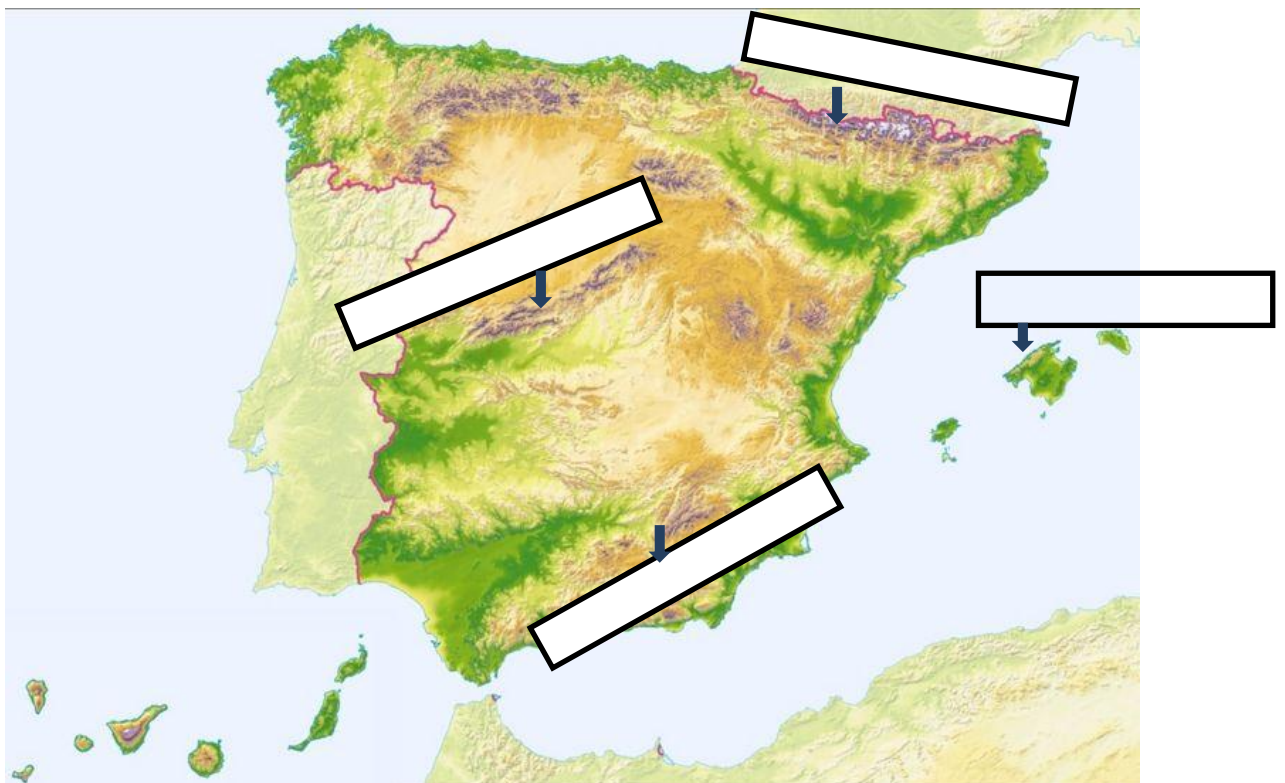
1. Punts cardinals

a) Escriviu els punts cardinals següents al requadre corresponent: nord-est, sud-est, nord-oest, sud-oest. (0,2 punts cada resposta)



b) El sol surt per l' i es pon per l'..... (0,1 punt cada resposta)

2. Escriviu als requadres el nom de les quatre serralades assenyalades. (0,25 punts cada resposta)



3. Coordenades

- a) Assenyalau amb una fletxa al mapa el paral·lel principal i el meridià 0°.
(0,1 punt cada resposta)



- b) Les línies que travessen la Terra horitzontalment són els
(0,2 punts)
- c) El paral·lel que divideix la Terra en dues meitats iguals o hemisferis és l'..... (0,2 punts)
- d) El meridià 0° que divideix la Terra en dues meitats iguals o hemisferis també es coneix per meridià de (0,2 punts)
- e) Els meridians situats a l'esquerra del meridià 0° tenen longitud (0,2 punts)

4. Escales

a) Escriviu al requadre si és una escala gràfica o numèrica. (0,2 punts cada resposta)

→

→

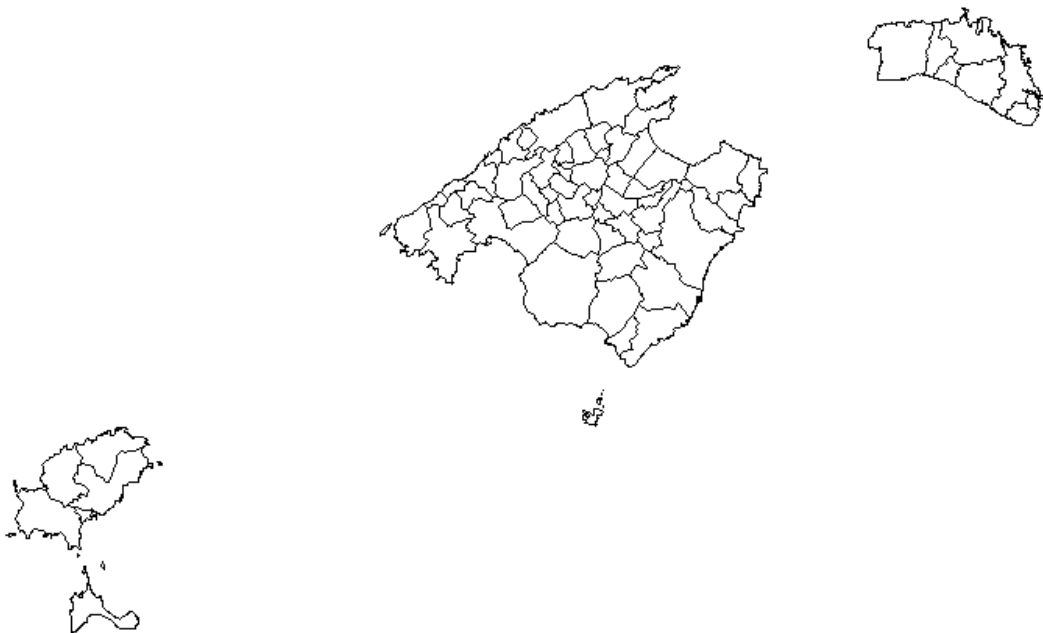
0
100
200
300 km

Escala 1 : 1000

b) Ompliu la taula següent sobre escales: (0,3 punts cada resposta)

Escales	Dibuix	Real
1:5000	5 cm	
1:100	30 cm	

5. Anomenau i assenyalau amb una fletxa al mapa un municipi de cada illa. (0,25 punts cada resposta)



6. Anomenau i assenyalau amb una fletxa al mapa 4 illes que pertanyin a la Unió Europea. (0,25 punts cada resposta)




7. Ordenau de la més antiga a la més moderna les etapes següents de la història. (0,2 punts cada resposta)

	Edat moderna
	Edat contemporània
	Edat mitjana
	Edat antiga
	Prehistòria



8. Posau el nom a 2 d'aquests tres tipus d'arcs. (0,5 punts cada resposta)



9. Durant la Revolució Industrial del segle XVIII va aparèixer un nou model de vida basat en: (0,5 punts cada resposta)

1.
2.

10. Identificau 2 d'aquestes tres imatges. (0,5 punts cada resposta)

