



G CONSELLERIA
O EDUCACIÓ
I I UNIVERSITAT
B DIRECCIÓ GENERAL
/ FORMACIÓ
PROFESSIONAL
I FORMACIÓ
PROFESSORAT

PROVA D'ACCÉS A GRAU MITJÀ
Convocatòria de maig de 2018

VERSIÓ CATALANA

INSTRUCCIONS DE LA PROVA

- Disposau d'**1 hora** per fer la prova.
- L'examen s'ha de presentar escrit **amb tinta blava o negra**, no a llapis.
- **No** es poden usar **telèfons mòbils** ni **aparells electrònics**.
- **No** es pot entrar a l'examen amb **textos o documents escrits**.
- Les errades **ortogràfiques** penalitzen **fins a 2 punts**.

DADES PERSONALS DE L'ALUMNE/A

Nom: _____

Llinatges: _____

DNI / NIE:

--	--	--	--	--	--	--	--	--

Qualificació:

--

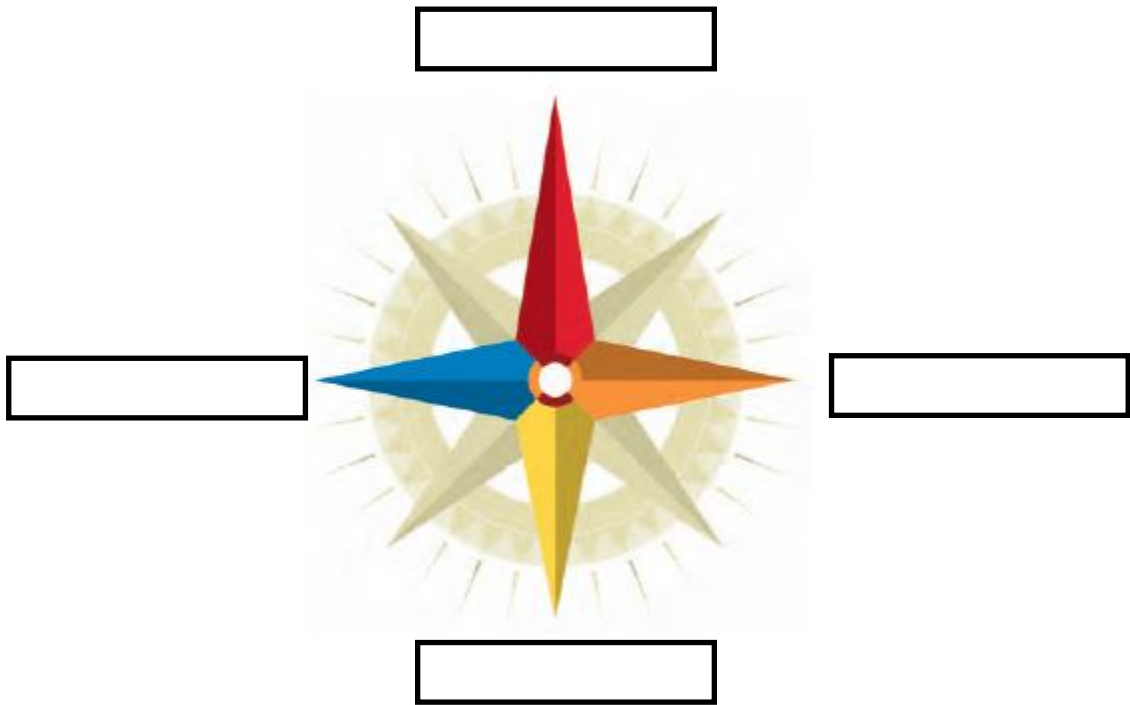
Signatura de l'alumne/a:

--

Bona sort!

1. Punts cardinals

a) Escriviu els punts cardinals al requadre corresponent: nord, sud, est i oest. (0,2 punts cada resposta)



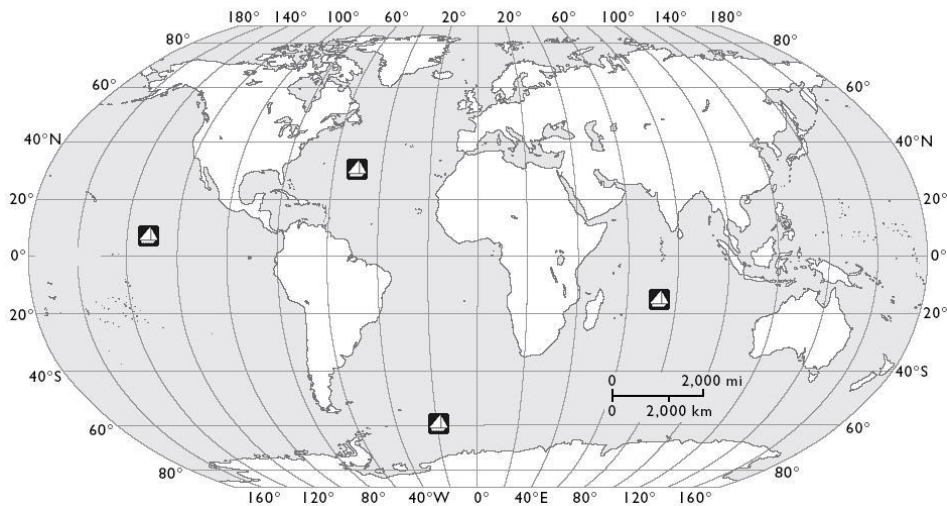
b) L'estrella polar indica el (0,2 punts)

2. Resoleu el problema. En un plànol d'una habitació fet a escala 1:50 hem amidat amb el regle mil·limetrat l'amplada i la longitud d'una habitació i hem obtingut els valors següents: 55 i 65 mm respectivament. Quina ha de ser la mida real en metres que haurà de tenir l'habitació? (1 punt)

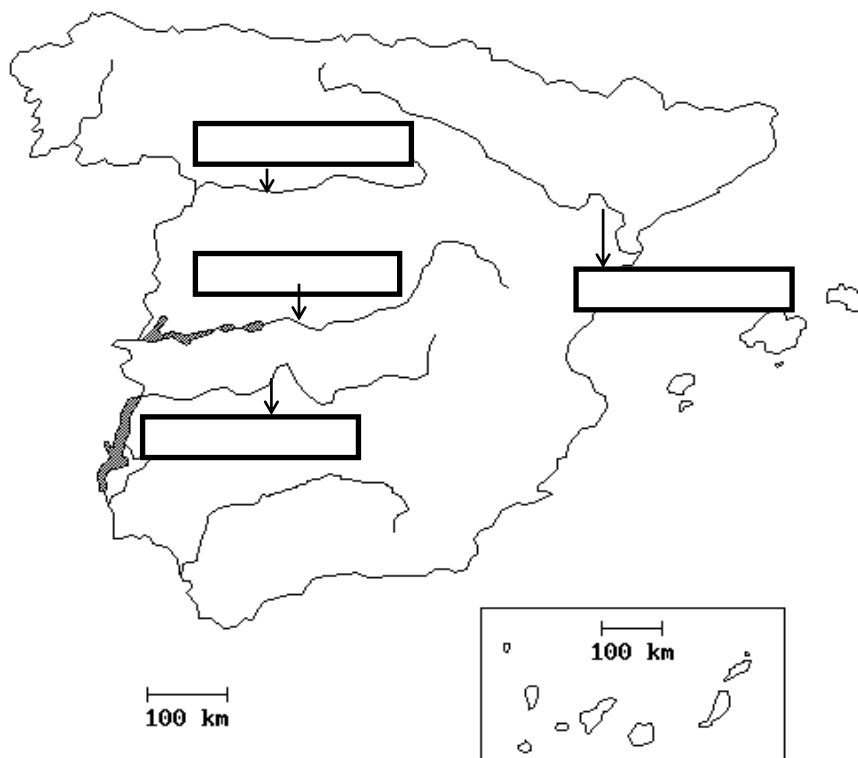
3. S'ha rebut una trucada de socors: "SOS. Hem topat amb un iceberg. Enviïn ajuda. La nostra posició és 60° sud, 20° oest."

a) Quin és el vaixell (encercla'l), dels indicats al mapa, que està en perill?
(0,6 punts)

b) A quin oceà es troba? (0,4 punts)



4. Escriviu al requadre el nom d'aquests 4 rius. (0,25 punts cada resposta)



5. Escriviu al mapa 1 província de la comunitat autònoma de Castella i Lleó, 2 províncies d'Aragó i 2 d'Extremadura. (0,2 punts cada resposta)



6. Situa els conceptes a la graella d'acord amb el període a què pertanyin. (0,2 punts cada resposta)

caça i recol·lecció, nomadisme, ramaderia, agricultura, sedentarisme

Paleolític	Neolític

7. Uniu amb una fletxa els déus romans i grecs que representen la mateixa divinitat. (0,2 punts cada resposta)

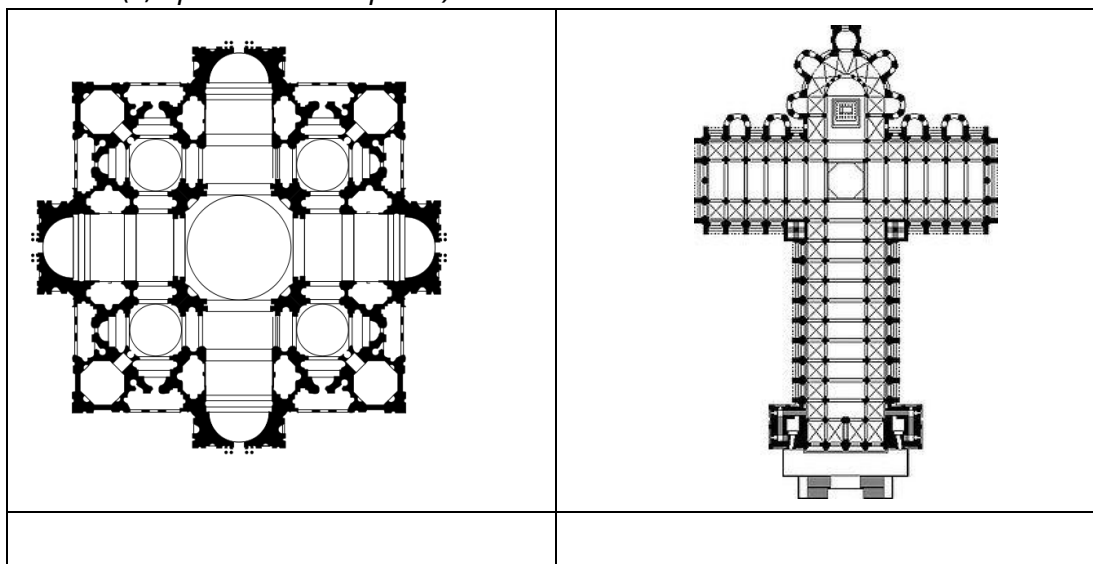
Zeus	Mart
Afrodita	Neptú
Atenea	Minerva
Posidó	Venus
Ares	Júpiter

8. Les primeres metal·lúrgies van utilitzar coure, bronze i ferro.

a) Quins d'aquests tres metalls és un aliatge? (0,5 punts)

b) Quins dos metalls s'uneixen per fer aquest aliatge? (0,5 punts)

9. En aquestes dues imatges teniu la planta de dues esglésies. Identifiqueu al requadre quina té una planta de creu grega i quina té una planta de creu llatina. (0,5 punts cada resposta)



10. Quins són els dos tipus de classes socials que apareixen durant la Revolució Industrial? (0,5 punts cada resposta)