



Govern de les Illes Balears
Conselleria d'Educació i Universitat
Direcció General de Formació Professional
i Formació del Professorat

PROVA D'ACCÉS A GRAU MITJÀ

Convocatòria de maig de 2016

VERSIÓ EN CATALÀ

INSTRUCCIONS DE LA PROVA

- Disposau d'**1 hora** per fer la prova.
- L'examen s'ha de presentar escrit **amb tinta blava o negra**, no a llapis.
- **No** es poden usar **telèfons mòbils** ni **aparells electrònics**.
- **No** es pot entrar a l'examen amb **textos o documents escrits**.

DADES PERSONALS DE L'ALUMNE/A

Nom:

Llinatges:

DNI / NIE:

--	--	--	--	--	--	--	--	--

Qualificació:

--

Signatura de l'alumne/a:

--

Bona Sort!

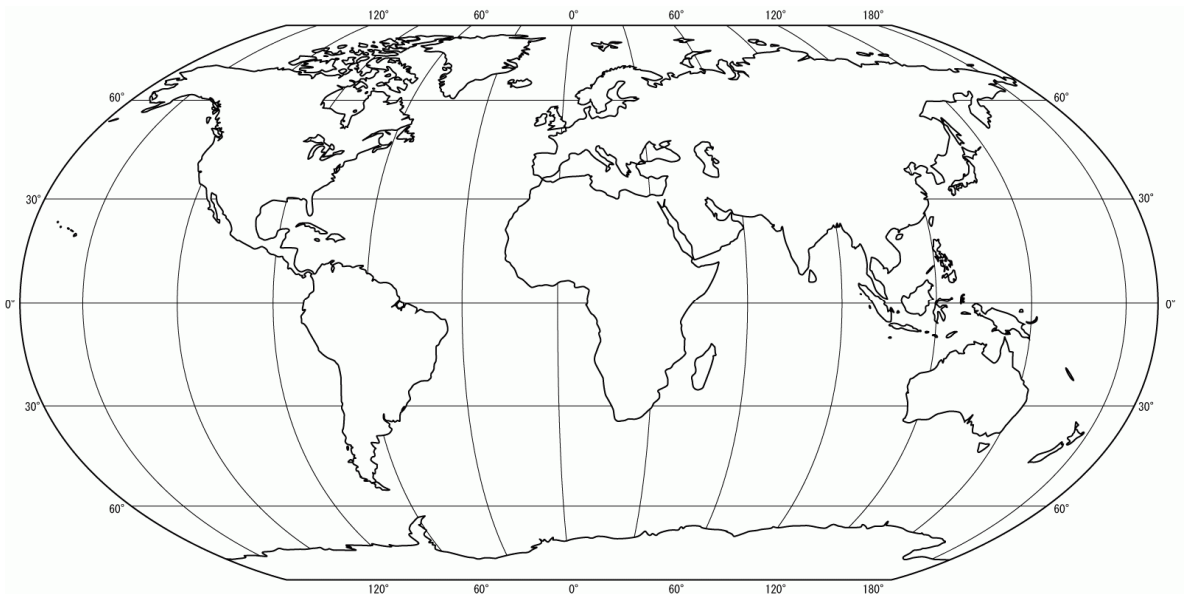
1. Punts cardinals:

- a) Ubicau i escriviu sobre la rosa dels vents els quatre punts cardinals.
(0,8 punts)
- b) Quin instrument utilitzam per localitzar els punts cardinals? Encerclau la resposta correcta. (0,2 punts)

anemòmetre brúixola penell higròmetre



2. Localitzau i escriviu sobre el planisferi cinc oceans (0,5 punts) i cinc continents (0,5 punts). Emprau fletxes si no hi cap el nom.



3. Indicau si són rius o serralades els accidents geogràfics següents i indicau a quin continent pertanyen. (0,1 punts cada resposta)

Accident geogràfic	Riu/ Serralada	Continent
Andes		
Nil		
Alps		
Himàlaia		
Amazones		

4. Les coordenades terrestres són línies imaginàries (paral·lels i meridians) que s'utilitzen per localitzar punts sobre la superfície terrestre. Contestau:

a) Quin nom rep el meridià principal o 0 graus? (0,2 punts)

b) Quin nom rep el paral·lel 0 graus? (0,2 punts)

c) Per quin punt cardinal surt el Sol? (0,2 punts)

nord sud est oest

d) Els meridians ens indiquen la: (0,2 punts)

latitud longitud

e) Els paral·lels ens indiquen la: (0,2 punts)

latitud longitud

5. Completau la informació que falta sobre els països de la Unió Europea o les seves capitals. (0,1 punt cada resposta)

País	Capital
	Varsòvia
Grècia	
Regne Unit	
	Lisboa
	Brussel·les
Espanya	
	París
Alemanya	
	Copenhaguen
Itàlia	

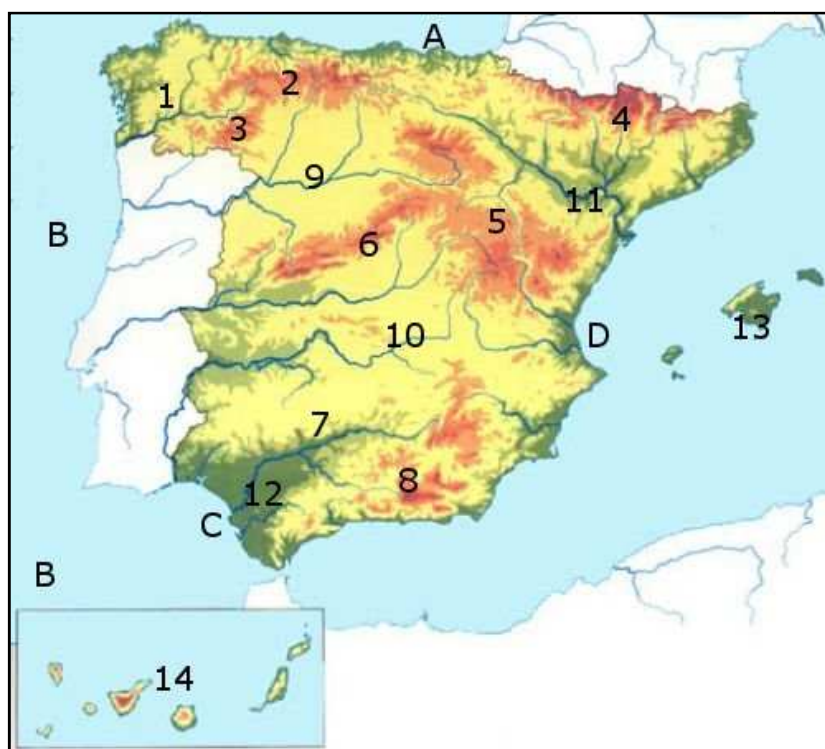
6. La Segona Guerra Mundial va ser provocada per la política exterior expansiva i agressiva d'Alemanya. Contesta:

- a) Quin polític dirigia Alemanya en aquells moments? (0,1 punt)
- b) Quins dirigents polítics tenien Itàlia i Espanya durant la Segona Guerra Mundial? (0,2 punts)
Itàlia: _____ Espanya: _____
- c) Quin fet va influir en la rendició del Japó al final de la Segona Guerra Mundial? (0,3 punts)
- d) Explica alguna conseqüència de la Segona Guerra Mundial. (0,4 punts)

7. Contesta:

- a) Quina península està representada al mapa? (0,2 punts)
- b) Cita dues penínsules més d'Europa. (0,4 punts)
- c) Indica el nom dels accidents geogràfics que assenyalen els números o les lletres següents: (0,4 punts)

14: _____ 9: _____
11: _____ B: _____



8. A quin sector econòmic pertanyen les professions següents? Classificau-les seguint l'exemple proposat: (0,1 punts cada resposta)

agricultor, metge, fuster de mobles, picapedrer de la construcció, ramader, pescador, bomber, cambrer, dependent en un comerç, fabricant de calçat

Sector primari	Sector secundari	Sector terciari
Miner		

9. Completau el quadre indicant si les característiques següents corresponen a fets de la prehistòria o de la història: (0,2 punts cada resposta)

neolític, Imperi romà, capitalisme, vida nòmada, invenció de l'escriptura

Prehistòria	Història
<i>Homo erectus</i>	Pintures de Joan Miró

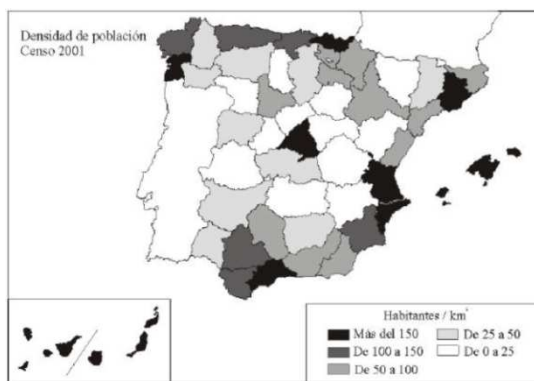
10. Contesta:

- a) Quin tipus de mapes són els següents? (0,4 punts)

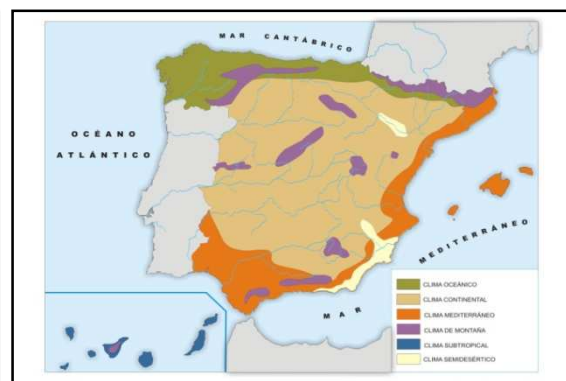
Mapa A: _____ Mapa B: _____

- b) Encerclau la llegenda de cada mapa. (0,2 punts)

- c) Què explica la llegenda del mapa A? (0,4 punts)



Mapa A



Mapa B