



## Govern de les Illes Balears

Conselleria d'Educació i Universitat  
Direcció General de Formació Professional  
i Formació del Professorat

### PRUEBA DE ACCESO A GRADO MEDIO

*Convocatoria de mayo de 2016*

### VERSIÓN EN CASTELLANO

#### INSTRUCCIONES DE LA PRUEBA

- Dispone de **1 hora** para realizar la prueba.
- El examen se debe presentar **escrito en bolígrafo** de tinta **azul** o **negra**, en ningún caso se puede presentar a lápiz.
- **No** se pueden usar **teléfonos móviles** ni **aparatos electrónicos**.
- **No** se puede entrar al aula con **textos o documentos escritos**.

#### DATOS PERSONALES DEL ALUMNO

Nombre:

---

Apellidos:

---

DNI / NIE:

--	--	--	--	--	--	--	--	--

Calificación:

Firma del alumno:

**¡Buena Suerte!**

1. Puntos cardinales:

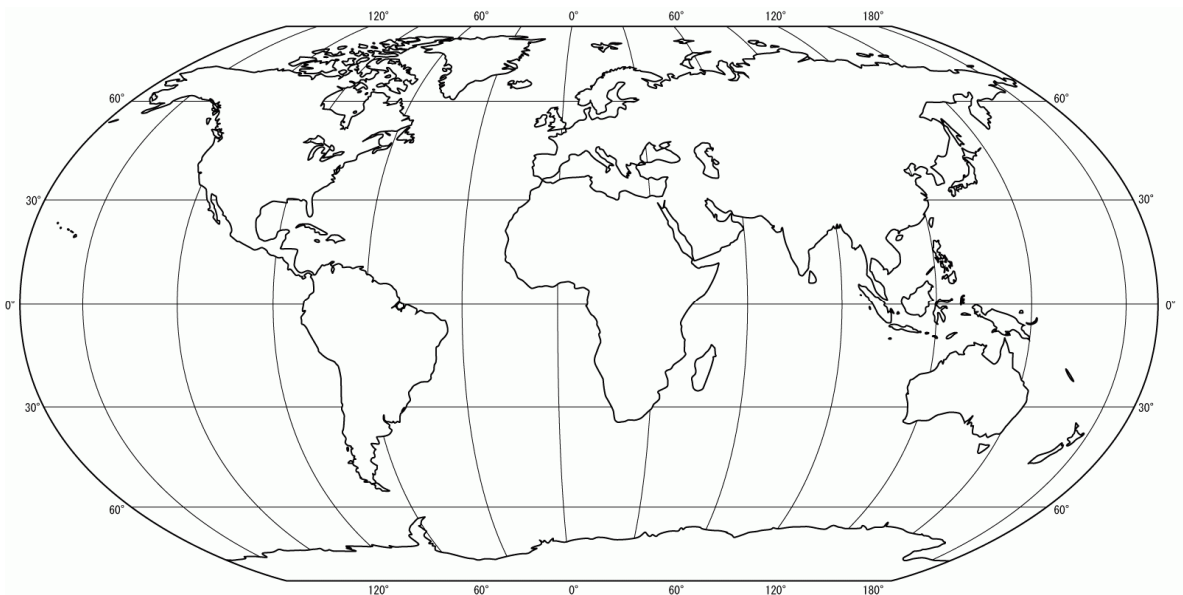
a) Ubica y escribe, sobre la rosa de los vientos, los cuatro puntos cardinales. (0,8 puntos)

b) ¿Qué instrumento utilizamos para localizar los puntos cardinales? Rodea la respuesta correcta. (0,2 puntos)

*anemómetro      brújula      veleta      higrómetro*



2. Localiza y escribe sobre el planisferio cinco océanos (0,5 puntos) y cinco continentes (0,5 puntos). Utiliza flechas si no cabe el nombre.



3. Indica si son ríos o cordilleras los accidentes geográficos siguientes e indica a qué continente pertenecen. (0,1 puntos cada respuesta)

<b>Accidente geográfico</b>	<b>Río / Cordillera</b>	<b>Continente</b>
Andes		
Nilo		
Alpes		
Himalaya		
Amazonas		

4. Las coordenadas terrestres son líneas imaginarias (paralelos y meridianos) que se utilizan para localizar puntos sobre la superficie terrestre. Contesta:

a) ¿Qué nombre recibe el meridiano principal o 0 grados? (0,2 puntos)

b) ¿Qué nombre recibe el paralelo 0 grados? (0,2 puntos)

c) ¿Por qué punto cardinal sale el Sol? (0,2 puntos)

Norte                  Sur                  Este                  Oeste

d) Los meridianos nos indican la: (0,2 puntos)

latitud                  longitud

e) Los paralelos nos indican la: (0,2 puntos)

latitud                  longitud

5. Completa la información que falta sobre los países de la Unión Europea o sus capitales. (0,1 puntos cada respuesta)

<b>País</b>	<b>Capital</b>
	Varsovia
Grecia	
Reino Unido	
	Lisboa
	Bruselas
España	
	París
Alemania	
	Copenhague
Italia	

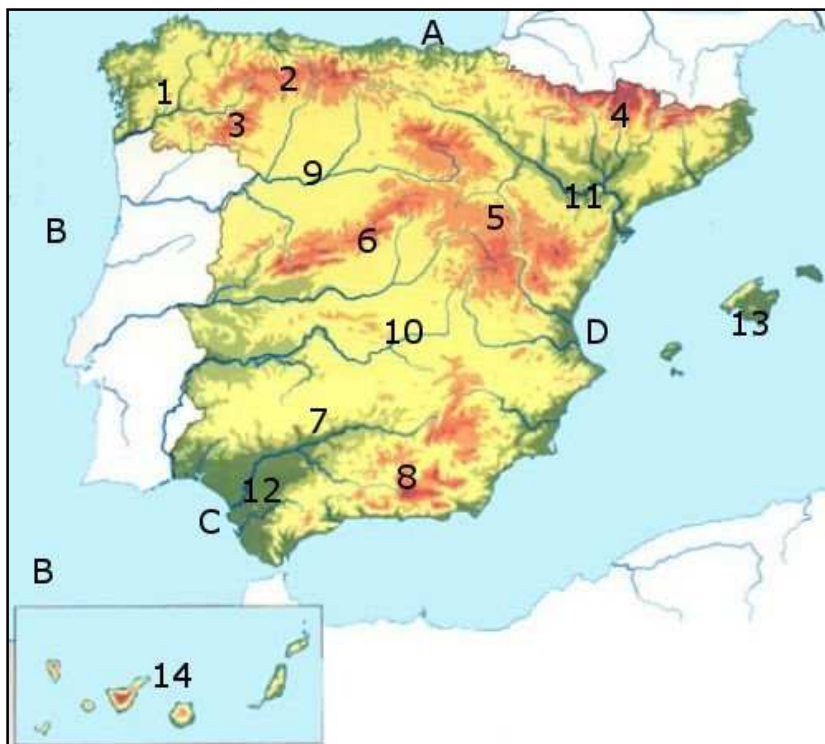
6. La Segunda Guerra Mundial fue provocada por la política exterior expansiva y agresiva de Alemania. Contesta:

- a) ¿Qué político dirigía Alemania en aquellos momentos? (0,1 puntos)
- b) ¿Qué dirigentes políticos tenían Italia y España durante la Segunda Guerra Mundial? (0,2 puntos)  
Italia: \_\_\_\_\_ España: \_\_\_\_\_
- c) ¿Qué hecho influyó en la rendición de Japón al final de la Segunda Guerra Mundial? (0,3 puntos)
- d) Explica alguna consecuencia de la Segunda Guerra Mundial. (0,4 puntos)

7. Contesta:

- a) ¿Qué península está representada en el mapa? (0,2 puntos)
- b) Cita dos penínsulas más de Europa. (0,4 puntos)
- c) Indica el nombre de los accidentes geográficos que señalan los números o las letras siguientes: (0,4 puntos)

14: \_\_\_\_\_ 9: \_\_\_\_\_  
11: \_\_\_\_\_ B: \_\_\_\_\_



8. ¿A qué sector económico pertenecen las profesiones siguientes? Clasifícalas siguiendo el ejemplo propuesto: (0,1 cada respuesta)

*agricultor, médico, carpintero de muebles, obrero de la construcción, ganadero, pescador, bombero, camarero, dependiente en un comercio, fabricante de calzado*

<b>Sector primario</b>	<b>Sector secundario</b>	<b>Sector terciario</b>
Minero		

9. Completa el cuadro indicando si las características siguientes corresponden a hechos de la Prehistoria o de la Historia: (0,2 puntos cada respuesta)

*neolítico, Imperio romano, capitalismo, vida nómada, invención de la escritura*

<b>Prehistoria</b>	<b>Historia</b>
<i>Homo erectus</i>	Pinturas de Joan Miró

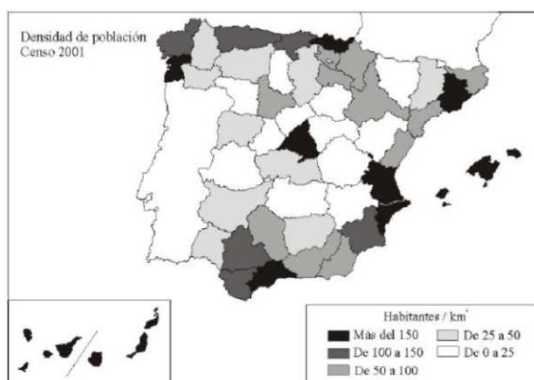
10. Contesta:

- a) ¿Qué tipo de mapas son los siguientes? (0,4 puntos)

Mapa A: \_\_\_\_\_ Mapa B: \_\_\_\_\_

- b) Rodea la leyenda de cada mapa. (0,2 puntos)

- c) ¿Qué explica la leyenda del mapa A? (0,4 puntos)



**Mapa A**



**Mapa B**