



Govern de les Illes Balears

Conselleria d'Educació i Universitat
Direcció General de Formació Professional
i Formació del Professorat

PROVA D'ACCÉS A GRAU MITJÀ

Convocatòria de setembre de 2015

VERSIÓ EN CATALÀ

INSTRUCCIONS DE LA PROVA

- Disposau d'**1 hora** per fer la prova.
- L'examen s'ha de presentar escrit **amb tinta blava o negra**, no a llapis.
- **No** es poden usar **telèfons mòbils** ni **aparells electrònics**.
- **No** es pot entrar a l'examen amb **textos o documents escrits**.

DADES PERSONALS DE L'ALUMNE/A

Nom:

Llinatges:

DNI / NIE:

--	--	--	--	--	--	--	--	--

Qualificació:

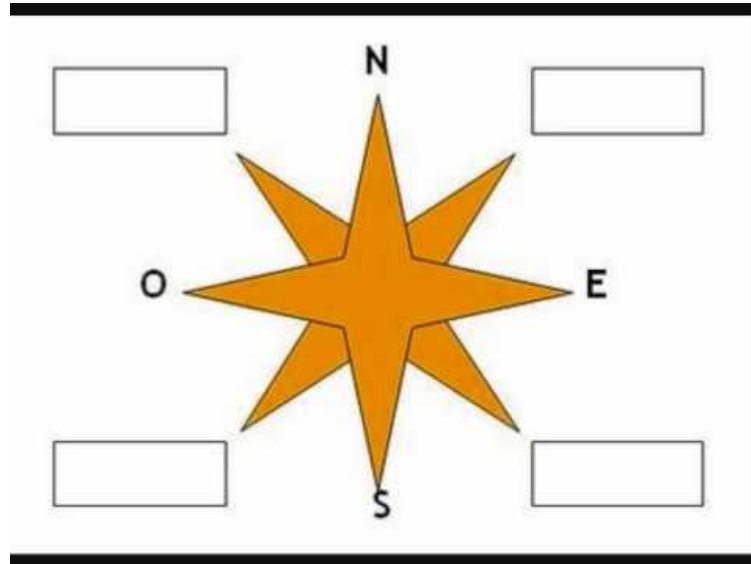
Signatura de l'alumne/a:

Bona Sort!

CS.SOCIALS

1. Punts cardinals:

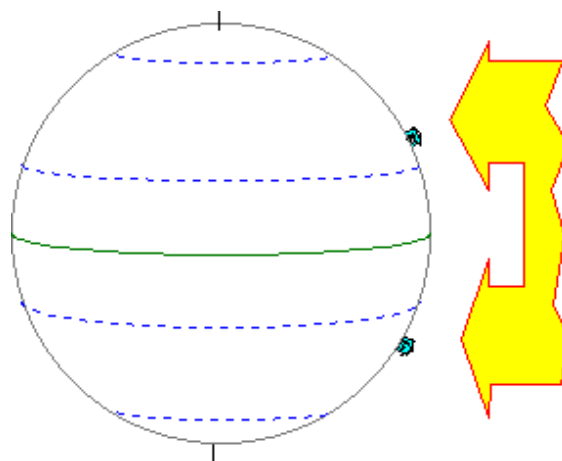
- a) Completau el nom dels quatre punts cardinals.
- b) Escriviu, en els requadres buits (de manera desenvolupada i no amb sigles), els punts cardinals intermedis.



(1 punt: a) 0,2 punts; b) 0,8 punts)

2. Localitzau i escriviu sobre l'esfera terrestre els paral·lels següents:

- a) El paral·lel 0° o equador.
- b) El tròpic de Càncer i el de Capricorn.
- c) El cercle polar antàrtic i l'àrtic.



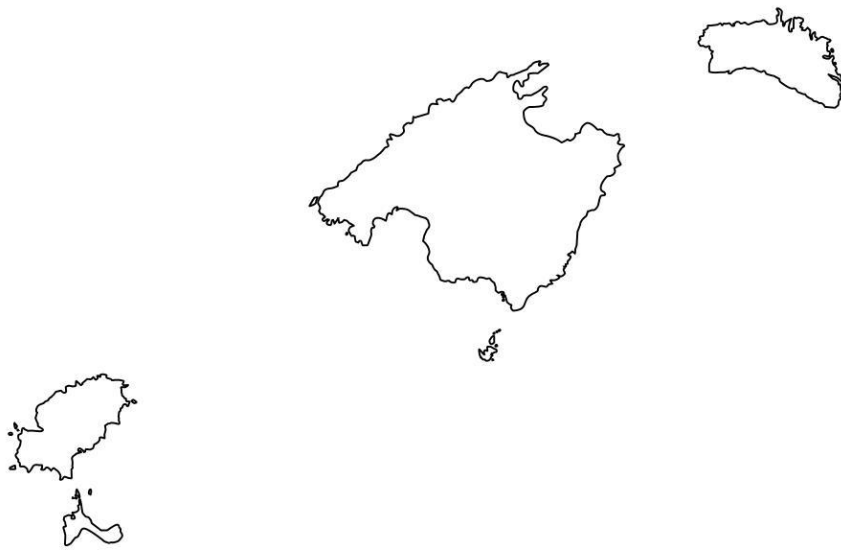
(1 punt: cada concepte 0,2 punts)

3. Observau el mapa de les Illes Balears i resolau (*usau fletxes*):

a) Localitzau i escriviu, al mapa, el nom de les distintes illes de l'arxipèlag balear.

b) Escriviu al mapa i assenyalau amb fletxes:

- Serra de Tramuntana.
- Badia de Palma.
- Badia de Pollença.
- Illa de Cabrera.
- Es Pla.
- Illa de la Conillera.



(1 punt: a) 0,4 punts; b) 0,6 punts)

4. Ordenau cronològicament (1-2-3-4-5), de més antic a més actual, els fets següents:

- a) Conquesta de Mallorca pel rei Jaume I el Conqueridor. ()
- b) Descobrimet d'Amèrica. ()
- c) Segona Guerra Mundial. ()
- d) Cultura talaiòtica. ()
- e) Revolució industrial. ()

(1 punt: cada apartat 0,2 punts)

5. Completau el text amb alguna de les paraules següents:

fona – navetes – romans – taules – fenicis – ramaderia -talaiòtica

(1 punt)

- a) “En el II mil·lenni aC es va desenvolupar a Mallorca i a Menorca la cultura _____. Una de les seves construccions més característiques és el talaiot, torre que dóna nom a aquesta cultura. A l'illa de Menorca es construïren, a més, _____ i _____. Les comunitats talaiòtiques vivien fonamentalment de la _____ i els seus homes eren famosos per la seva habilitat amb la _____. Eivissa, en canvi, va ser colonitzada pels _____, que convertiren l'illa en un gran centre d'intercanvi comercial i de distribució de mercaderies. A finals del segle II aC, les nostres illes varen ser conquerides pels _____”.
- b) Definiu taula i naveta. Feis un dibuix per il·lustrar la vostra explicació.

(1 punt: a) 0,05 cada espai = 0,35 punts; b) 0,4 les definicions i 0,25 punts el dibuix)

6. A quin oceà o mar desemboquen els rius espanyols següents? Especificau, en la vostra resposta si és mar o oceà. (1 punt)

<i>Riu</i>	<i>Mar o oceà</i>	<i>Riu</i>	<i>Mar o oceà</i>
Miño		Tajo	
Duero		Guadiana	
Guadalquivir		Llobregat	
Ebre		Túria	
Nerbion		Xúquer	

7. L'Estat de les autonomies: contestau usant fletxes, si és necessari:

- a) Quantes comunitats autònomes formen l'Estat espanyol? _____
- b) Localitzau i escriviu, sobre el mapa, el nom de les dues ciutats autònomes.
- c) Escriviu, sobre el mapa, el nom de les comunitats autònomes que tenen costa al Cantàbric.
- d) Ubicau, sobre el mapa, el nom de la comunitat autònoma a la qual pertanyen les nostres illes.

- e) Escriviu el nom, sobre el mapa, de l'altra comunitat autònoma espanyola que és un arxipèlag.



(1 punt: a) 0,2 punts; b) 0,2 punts; c) 0,4 punts; d) 0,1 punt; e) 0,1 punt)

8. Resoleu:

- Distingiu entre temps i clima.
- Posau exemples de climes de la zona temperada.
- Quin clima tenim a les Illes Balears? Relacionau les característiques de les diferents estacions pel que fa a temperatura, precipitació, sol, humitat o sequera, etc.

(1 punt: a) 0,45 punts; b) 0,15 punts; c) 0,4 punts)

9. Relacionau cada instrument (lletra) amb l'element del clima que mesura (nombre):

a. anemòmetre	1. temperatura	(a,)
b. higròmetre	2. vent	(b,)
c. termòmetre	3. precipitació	(c,)
d. pluviòmetre	4. pressió atmosfèrica	(d,)
e. baròmetre	5. humitat	(e,)

(1 punt: cada apartat 0,2 punts)

10. Feis una redacció en què compareu les característiques dels països desenvolupats (com és el cas d'Espanya) amb els països pobres o subdesenvolupats (cas de l'Àfrica subsahariana), agafant com a referent: (1 punt)

- a) La sanitat (si tenen molts d'hospitals, molts de metges...).
- b) L'educació (si tenen moltes d'escoles, com són...).
- c) Com és el transport (si tenen bones vies de comunicació, carreteres...).
- d) En què es basa la seva economia (agricultura, ramaderia i/o indústria endarrerida o pròspera).
- e) Motius o causes que fan que les persones emigrin del seu país cap a un altre.