



Govern de les Illes Balears

Conselleria d'Educació i Universitat
Direcció General de Formació Professional
i Formació del Professorat

PROVA D'ACCÉS A GRAU SUPERIOR

Convocatòria de maig de 2016

VERSIÓ EN CATALÀ

INSTRUCCIONS DE LA PROVA

- Disposau d'**1 hora i 30 minuts** per fer la prova.
- L'examen s'ha de presentar escrit **amb tinta blava o negra**, no a llapis.
- **No** es poden usar **telèfons mòbils** ni **aparells electrònics**.
- **No** es pot entrar a l'examen amb **textos o documents escrits**.

DADES PERSONALS DE L'ALUMNE/A

Nom:

Llinatges:

DNI / NIE:

--	--	--	--	--	--	--	--	--

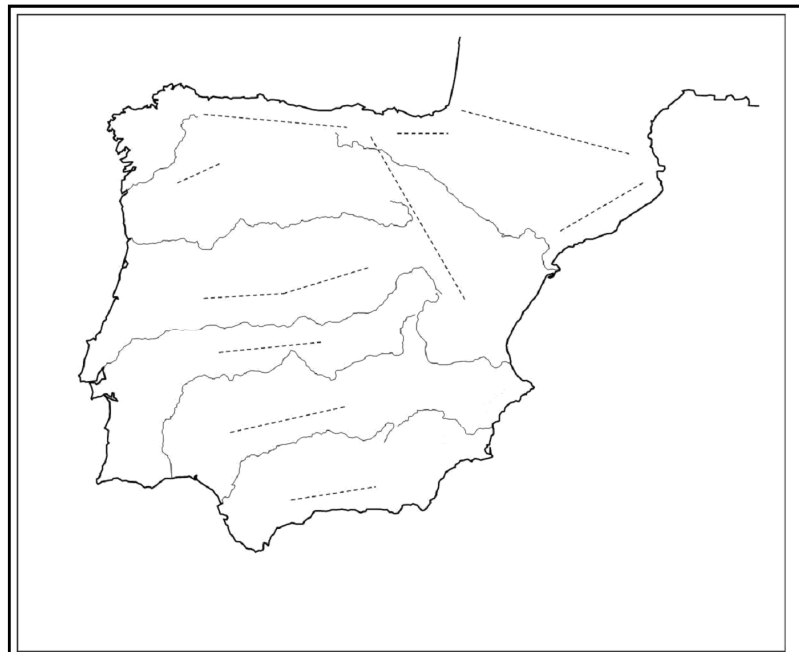
Qualificació:

Signatura de l'alumne/a:

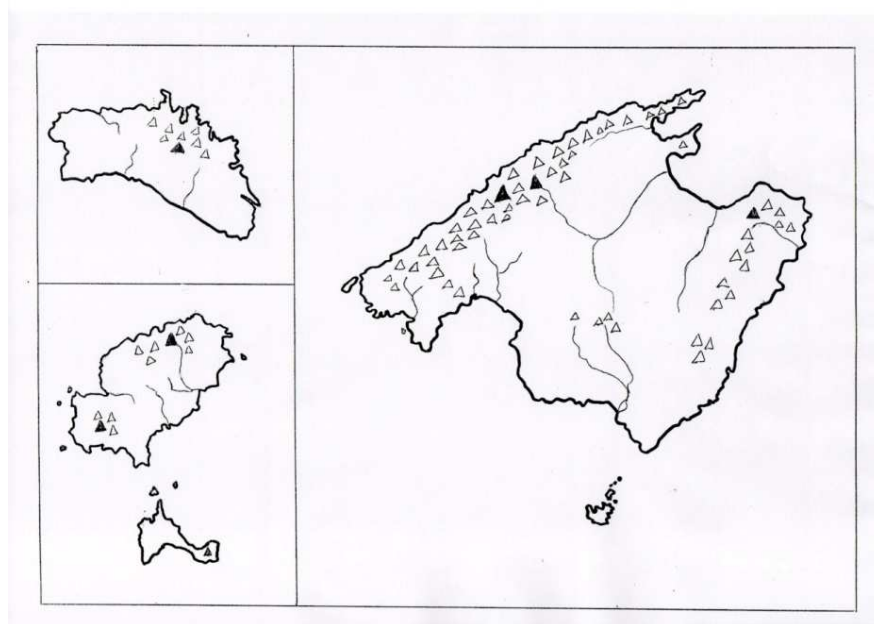
Bona Sort!

1. Sobre el mapa físic de la península Ibèrica i de les Illes Balears:

- a) Situau al mapa 1 les muntanyes interiors de la Meseta, que contribueixen al fet que al voltant d'un 58 % del territori es trobi situat per damunt dels 600 m. (0,2 punts)
- b) Escriviu al mapa 2 el nom de les illes de l'arxipèlag balear. (0'05 cada resposta correcta)
- c) Localitzau al mapa 2 les serres o pics de les Illes Balears següents: serra de Tramuntana, els Amunts, les serres de Portmany, Migjorn i la Mola. (0,5 punts)



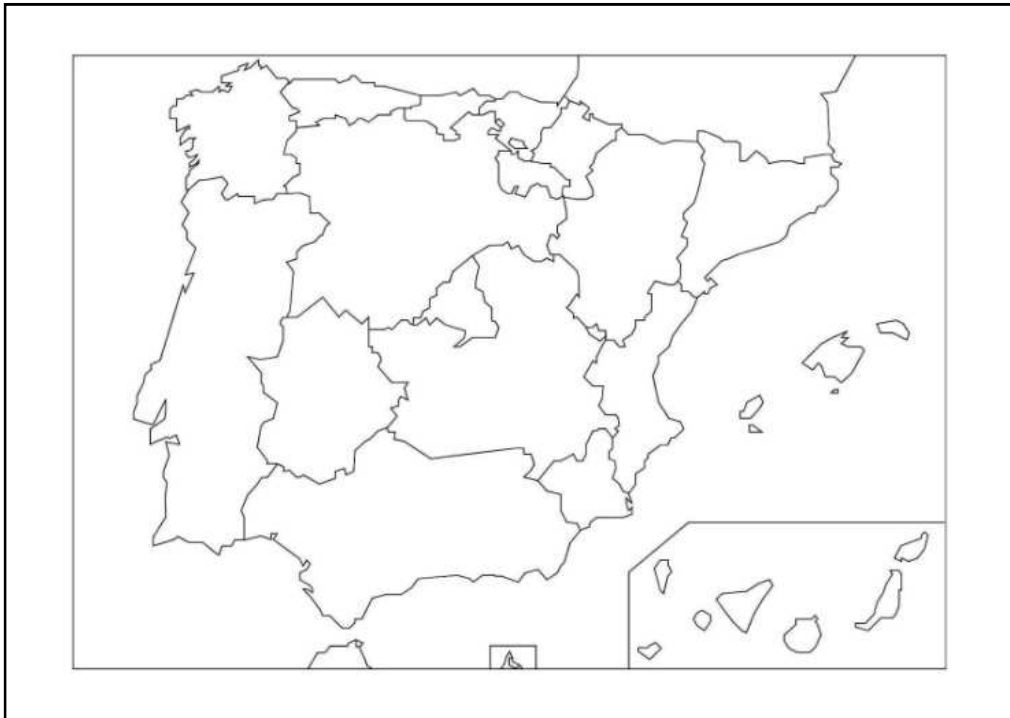
mapa 1



mapa 2

2. Sobre el mapa polític de l'Estat espanyol:

- a) Delimitau clarament els límits i escriviu els noms de les comunitats autònomes del litoral mediterrani. (0,5 punts)
- b) Ubicau les dues ciutats autònomes de l'Estat espanyol. (0,2 punts)



- c) Explicau, en un mínim de 6-8 línies, les característiques de l'espai geogràfic de les Illes Canàries. (0,3 punts)

3. En relació amb la representació de la superfície terrestre sobre un mapa:

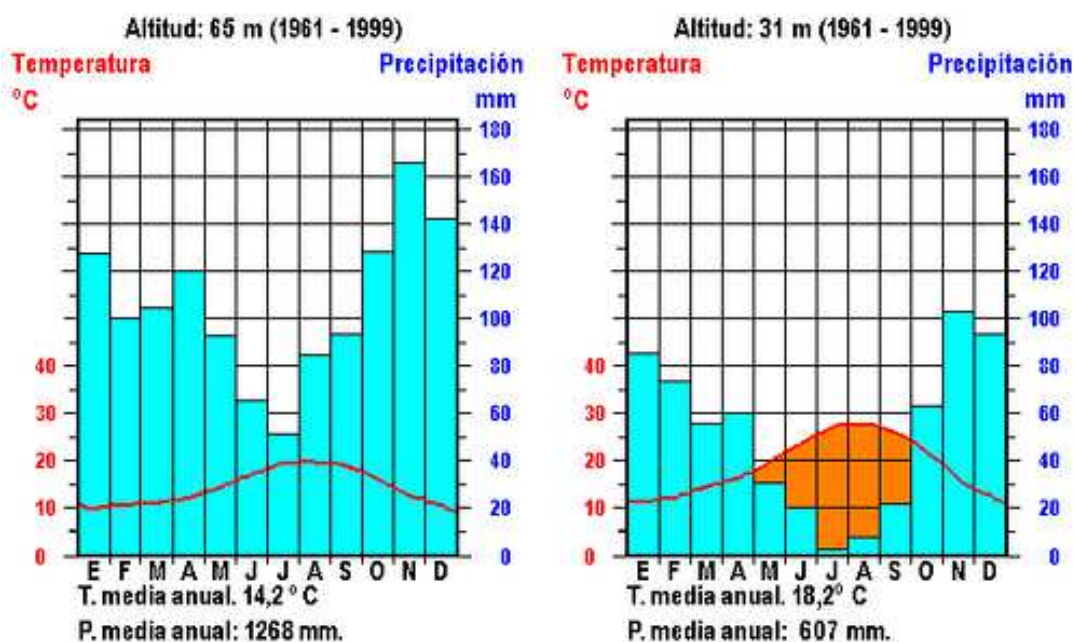
- a) Definiu el concepte d'escala. (0,3 punts)
- b) Explicau els tipus d'escala que s'utilitzen als plànols i als mapes. (0,4 punts)
- c) L'escala 1:100.000, a quants de quilòmetres de la realitat equival? Feis el plantejament de la vostra resposta. (0,3 punts)

4. Completau el quadre amb el nom de 10 països que formin part de la Unió Europea amb les seves capitals. (0,05 cada resposta correcta)

<i>País</i>	<i>Capital</i>	<i>País</i>	<i>Capital</i>
1.		6.	
2.		7.	
3.		8.	
4.		9.	
5.		10.	

5. Observau els diagrames ombrotèrmics (climogrames) i responeu les qüestions següents:

- Explicau les diferències pluviomètriques mensuals i estacionals entre aquestes dues representacions climàtiques. (0,3 punts)
- Calculau, de forma aproximada, l'oscil·lació tèrmica anual a cadascun dels climogrames i explicau com es reflecteix a cadascun el concepte d'aridesa. (0,3 punts)
- Quins dos tipus de clima representa cada climograma? On es poden localitzar? Raonau la resposta. (0,4 punts)



6. Les conques hidrogràfiques d'Espanya es divideixen en tres vessants. Seguint l'exemple del Ter, ubica el vessant que pertanyen cadascun dels rius següents:
(0,1 punts cada resposta correcta)

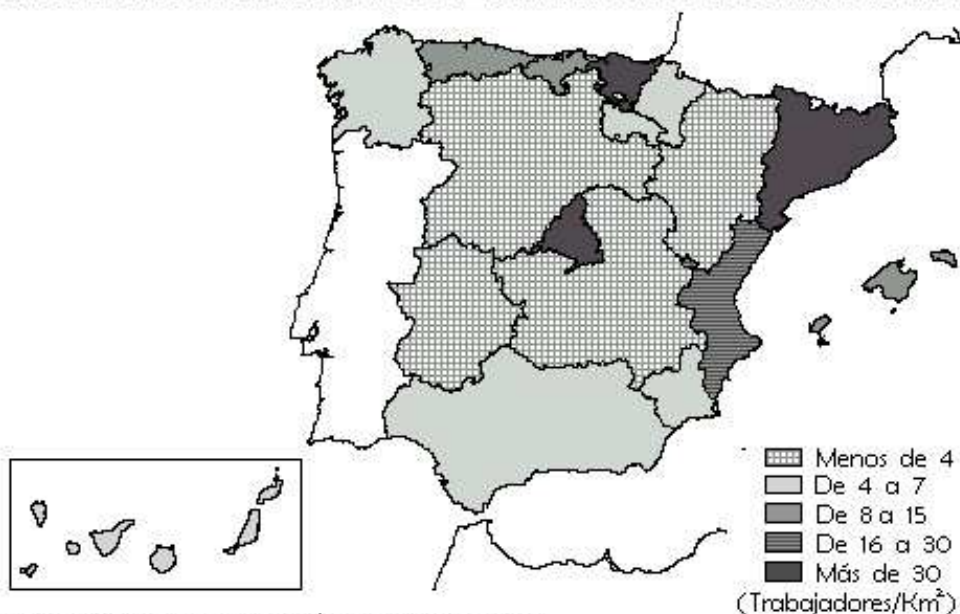
Llobregat, Nerbion, Miño, Túrria, Ebre, Guadiana, Nalón, Tajo, Duero i Bidasoa

Cantàbric	Atlàntic	Mediterrani
		Ter

7. Observau el mapa i contestau les qüestions següents:

- Indicau el nom de, almenys, dues de les principals àrees industrials d'Espanya (0,2 punts) i dues àrees industrials en regressió. (0,2 punts)
- En relació amb les principals característiques de la distribució espacial de la indústria espanyola, explicau els contrastos industrials existents entre el centre i la perifèria d'Espanya. (0,3 punts)
- Al voltant dels anys 80 del segle XX es va iniciar un procés que va afectar àrees i sectors industrials tradicionals. Com s'anomena aquest procés i quina en va ser la causa? A quines zones i indústries de l'Estat espanyol va afectar? (0,3 punts)

ESTRUCTURA ESPACIAL Y DENSIDAD INDUSTRIAL EN 1975



Fuente: R. Méndez. *Las Actividades Industriales* Ed. Síntesis

8. El codi penal espanyol tipifica el *delicte ecològic*. Explicau en què consisteix i posau exemples que s’hi puguin considerar. (1 punt)

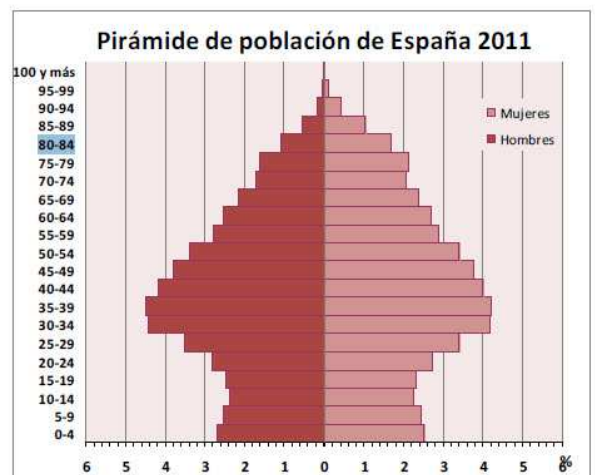
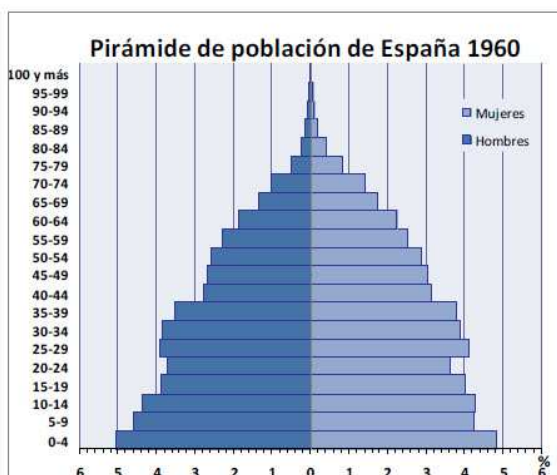
9. De la Comunitat Autònoma de les Illes Balears:

a) Explicau la situació geogràfica de les Illes Balears (latitud, longitud, punts cardinals, etc.) respecte d’altres indrets de referència com, per exemple, el globus terraqüi, Europa, la península Ibèrica, Espanya, el mar Mediterrani, etc. Utilitzau tot el vocabulari possible per argumentar sobre la seva situació i les conseqüències que se’n deriven. (0,5 punts)

b) Completau el quadre següent amb 10 pobles (que no siguin la capital) de les diferents illes de l’arxipèlag balear: (0,05 cada resposta correcta)

<i>Mallorca</i>	<i>Menorca</i>	<i>Eivissa</i>	<i>Formentera</i>

10. Les piràmides de població següents representen l’estructura de la població espanyola el 1960 i el 2011.



Fuente: Instituto Nacional de Estadística. Elaboración: R. Luque Revuelto

Un cop analitzades les piràmides anteriors, contestau les qüestions següents:

- a) Comparau la població de 0 a 10 anys a ambdues piràmides i explicau les diferències que hi observau. Quines conseqüències socials té aquest canvi? *(0,3 punts)*
- b) Comparau la població de 65 o més anys a ambdues piràmides. Quines diferències bàsiques existeixen? Quines conseqüències socials tenen? *(0,3 punts)*
- c) Explicau el model d'estructura demogràfica que representa cadascuna d'aquestes piràmides. Raonau la resposta explicant breument les causes que donen lloc a aquests dos models. *(0,4 punts)*