



**PROVA D'ACCÉS A GRAU SUPERIOR**

*Convocatòria de setembre de 2015*

**VERSÍO EN CATALÀ**

**INSTRUCCIONS DE LA PROVA**

- Disposau d'**1 hora i 30 minuts** per fer la prova.
- L'examen s'ha de presentar escrit **amb tinta blava o negra**, no a llapis.
- **No** es poden usar **telèfons mòbils** ni **aparells electrònics**.
- **No** es pot entrar a l'examen amb **textos o documents escrits**.

**DADES PERSONALS DE L'ALUMNE/A**

Nom:

\_\_\_\_\_

Llinatges:

\_\_\_\_\_

DNI / NIE:

--	--	--	--	--	--	--	--	--

Qualificació:

--

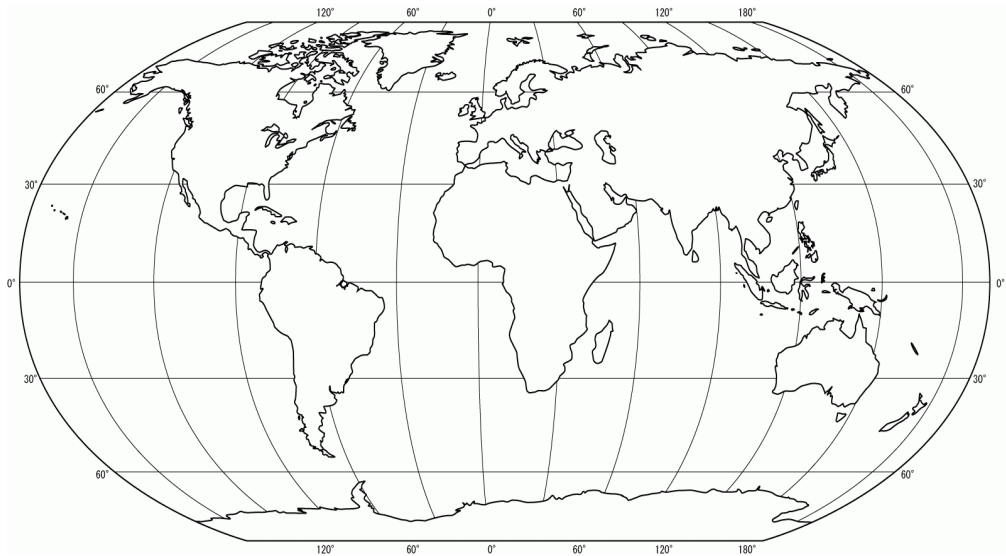
Signatura de l'alumne/a:

--

**Bona Sort!**

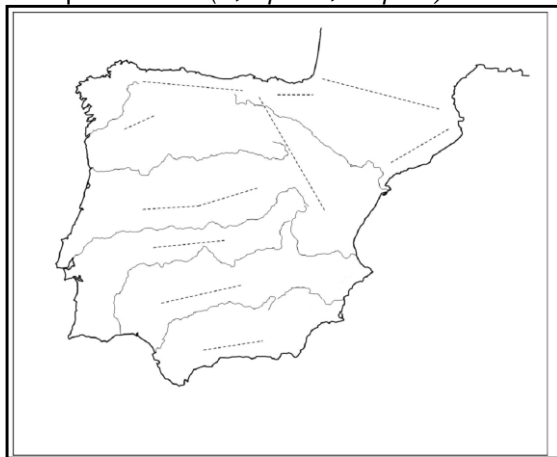
1. Contestau, redactant la resposta, les qüestions següents:

- Quines són les línies imaginàries de la Terra, quin nom reben i quina funció tenen? (0,2 punts)
- Definició d'Equador. Quin altre nom rep i funció. (0,2 punts)
- Definició de *latitud*. (0,2 punts)
- Localitzau i escriviu, sobre el planisferi, el nom d'altres línies imaginàries que comparteixen característiques amb l'Equador i que tenen un nom específic. (0,4 punts)

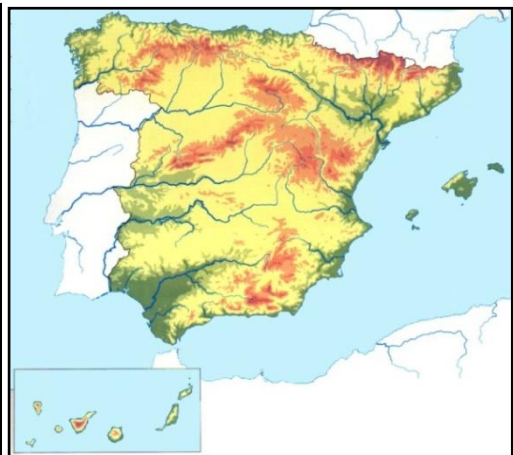


2. La morfologia de la península Ibèrica presenta diverses unitats de relleu. Localitzau i escriviu sobre el mapa (usau fletxes si és necessari) el nom de:

- La Meseta septentrional i meridional. (0,2 punts, al mapa 1)
- Quatre serralades o muntanyes a prop de la costa (0,4 punts, al mapa 1), els monts de Toledo i els Pirineus. (0,2 punts, a qualsevol dels dos mapes)
- Una depressió d'un riu del vessant mediterrani i una depressió del sud de la península. (0,2 punts, mapa 2)



Mapa 1



Mapa 2

3. Respon a les qüestions següents:

- a) Escriviu sobre el mapa el nom de quatre rius del vessant atlàntic. (0,4 punts)
- b) Explicau el règim fluvial dels rius del vessant cantàbric i justifiqueu les causes del seu comportament. (0,6 punts)



4. Escriviu el nom de les comunitats autònomes indicades amb nombres: (1 punt)

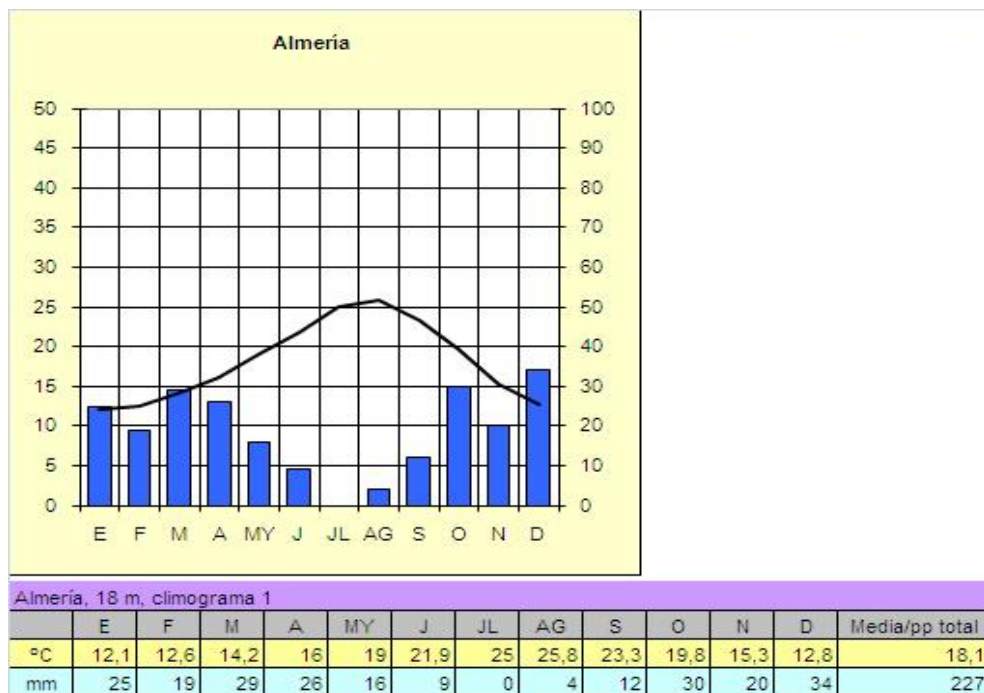


5. L'Estat espanyol és membre de la Unió Europea. Redactau i argumentau a partir de les qüestions següents:

- a) Quin any va ingressar Espanya a la Unió Europea? (0,1 punts)
- b) Aquest fet va fer que es beneficiàs de subvencions. Anomenau i explicau els fons d'ajuda. (0,5 punts)
- c) Explicau què va suposar la introducció de la moneda única (euro) a l'economia espanyola; els avantatges i els inconvenients. (0,4 punts)

6. Interpretau el climograma d'Almeria a partir de les preguntes següents:

- Característiques d'aquest domini climàtic: precipitacions, temperatures, canvis estacionals, amplitud tèrmica. (0,5 punts)
- De quin clima es tracta? (0,2 punts)
- Comunitat autònoma a la qual pertany Almeria. (0,1 punt)
- Activitat econòmica principal de la província. (0,2 punts)



7. Contestau, respecte de les Illes Balears:

- Quines són les institucions bàsiques autonòmiques en l'àmbit de tota la comunitat autònoma de les Illes Balears? (0,3 punts)
- Com s'anomena la institució pròpia de govern de cada una de les quatre illes majors? (0,2 punts)
- Relacionau cada característica (nombre) amb l'illa (lletra) que li correspon: (0,5 punts)

1. Els Amunts i les serres de Portmany.	a. Mallorca	( 1, )
2. Parc natural de s'Albufera des Grau.	b. Menorca	( 2, )
3. Rellu suau, el punt més alt no supera els 200 m.	c. Eivissa	( 3, )
4. Tramuntana i Migjorn divideixen l'illa.	d. Formentera	( 4, )
5. Els torrents són els més llargs de les illes.		( 5, )

8. Contestau i redactau a partir de les preguntes següents:

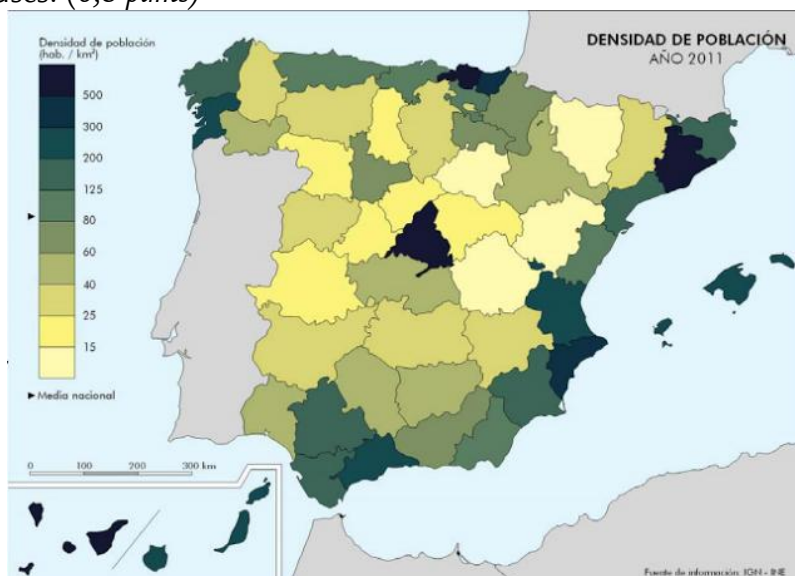
- a) Definició de sector econòmic. (0,2 punts)
- d) Quins són els sectors econòmics? (0,3 punts)
- b) Funció del sector secundari. (0,3 punts)
- c) Activitats econòmiques que s'inclouen dins el sector secundari. (0,2 punts)

9. Indicau si són vertaderes (V) o falses (F) les frases següents, que fan referència al bosc mediterrani (0,2 punts, 0,05 cada una), i explicau cada una de les vostres respostes. (0,8 punts)

- a) ( ) Les espècies més característiques del bosc mediterrani són l'alzina i la surera (0,05 punts). Explicau les característiques de les espècies del bosc mediterrani (0,2 punts).
- b) ( ) El bosc mediterrani no està preparat per a la sequera estival i necessita abastament d'aigua (0,05 punts). Explicau-ho (0,2 punts).
- c) ( ) El bosc mediterrani es troba al nord-oest de la península Ibèrica, a la latitud més septentrional i a la longitud oest (0,05 punts). Argumentau-ho (0,2 punts).
- d) ( ) Màquia, garriga i estepa (bargalló, espàrrec, etc.) són característics del bosc mediterrani (0,05 punts). Desenvolupau-ho (0,2 punts).

10. Interpretau el mapa sobre la distribució de la població:

- a) Definiu el concepte de densitat de població. (0,2 punts)
- b) Citau sis de les províncies més poblades i digau on es localitzen. (0,3 punts)
- c) Relacionau quines províncies es troben més poblades i quines menys i raonau-ne les causes. (0,5 punts)



Fuente: Dpto. Geografía y Ordenación del Territorio, Universidad de Zaragoza a partir de datos del Instituto Nacional de Estadística (España) y en colaboración con el Atlas Nacional de España, Instituto Geográfico Nacional.